

## SRODOWISKO, KRAJE AMERYKI

- Największą wyspą Ameryki Południowej to:
  - Grenlandia
  - Jamajka
  - Kuba
  - Ziemia Ognista
- Nizinę Amazonki porasta:
  - tajga
  - sawanna
  - las równikowy
  - roślinność pustynna
- Najwyższe góry Ameryki Południowej to:
  - Andy
  - Kordyliery
  - Himalaje
  - Alpy
- Która z grup ludności zamieszkiwała Amerykę przed odkryciem jej przez Kolumba?
  - Zambosi
  - Metysi
  - Mulaci
  - Eskimosi
- Najsłynniejszy kanion świata leżący w USA to:
  - Kanion Rio Grande
  - Kanion Colca
  - Kanion Amazonki
  - Kanion Kolorado
- Lasy zajmują w Brazylii, 67% powierzchni kraju. Największy obszar tych lasów nazywany „zielonymi płucami Ziemi” znajduje się:
  - na Wyżynie Gujańskiej
  - na Nizinie Orinoko
  - na wschodnich stokach Andów
  - na Nizinie Amazonki
- Najdłuższą rzeką Ameryki Północnej jest:
  - Missisipi
  - Amazonka
  - Parana
  - Missouri
- W którym z miast znajduje się największe w Ameryce skupisko ludności wywodzącej się z Polski.
  - w Kurtybie w Brazylii
  - w Cordobie w Argentynie
  - w Toronto w Kanadzie
  - w Chicago w Stanach Zjednoczonych
- Wskaż państwa należące do Ameryki Środkowej
  - USA, Kanada, Meksyk, Brazylia
  - Peru, Brazylia, Argentyna, Kostaryka
  - USA, Brazylia, Meksyk, Argentyna
  - Kostaryka, Dominikana, Haiti, Jamajka
- Które z miast słynie z karnawału:
  - Nowy Jork
  - San Francisco
  - Buenos Aires
  - Rio de Janeiro
- Pustynia Lodowa występuje w Ameryce na:
  - Półwyspie Kalifornijskim
  - Grenlandii
  - Półwyspie Floryda
  - Półwyspie Labrador
- Najwyższymi górami Ameryki Północnej są:
  - Andy
  - Kordyliery
  - Appalachy
  - Góry Skaliste
- Największy półwysep Ameryki Północnej to:
  - Półwysep Floryda
  - Półwysep Kalifornijski
  - Półwysep Labrador
  - Półwysep Jukatan
- Wskaż dwa największe miasta Brazylii, z liczbą mieszkańców przekraczającą 10 mln
  - Brasilia i Belo Horizonte
  - Sao Paulo i Rio de Janeiro
  - Manaus i Porto Alegre
  - Brasilia i Salvador
- Granicą pomiędzy Ameryką Północną i Południową jest:
  - Kanał Panamski
  - Kanał Sueski
  - Cieśnina Beringa
  - Cieśnina Gibraltarska
- Wskaż, w uprawie których roślin przoduje Brazylia
  - soi, bawełny, kawy, trzciny cukrowej, kakaowca
  - kakaowca, soi, bawełny, żyta, pszenicy
  - kawy, trzciny cukrowej, soi, ziemniaków, prosa
  - kukurydzy, kakaowca, soi, pszenicy, ryżu
- Największe jezioro Ameryki Północnej to:
  - J. Huron
  - J. Górne
  - J. Wiktorii
  - Wielkie Jezioro Niedźwiedzie
- W produkcji rolnej Brazylii bardzo ważną rolę poza uprawami plantacyjnymi odgrywa hodowla:
  - owiec
  - trzody chlewnej
  - bydła
  - wielbłądów
- W którym z wymienionych krajów językiem urzędowym jest portugalski?
  - w Brazylii
  - w Ekwadorze
  - w Kolumbii
  - w Argentynie
- Dzielnice nędzy w wielomilionowych miastach Brazylii to:
  - campos
  - megalopolis
  - fawele
  - caatinga

21. Największą wyspą Ameryki Północnej jest:
- Kuba
  - Ziemia Ognista
  - Grenlandia
  - Nowa Funlandia
22. Najdłuższą rzeką Ameryki Południowej jest:
- Missisipi
  - Parana
  - Nil
  - Amazonka
23. Potomkami Indian i osób należących do białej odmiany człowieka są:
- Metysi
  - Mulaci
  - Zambosi
  - Pigmeje
24. Największe państwo Ameryki Południowej to:
- Brazylia
  - Argentyna
  - Stany Zjednoczone
  - Kanada
25. Niziną Ameryki Południowej nie jest:
- Nizina Amazonki
  - Nizina Orinoko
  - Nizina Zatokowa
  - Nizina La Platy
26. Zachodnie wybrzeża obu Ameryk znajdują się pod wpływem prądów morskich:
- zimnego Kalifornijskiego i ciepłego Peruwiańskiego
  - ciepłych: Kalifornijskiego i Peruwiańskiego
  - ciepłego Kalifornijskiego i zimnego Peruwiańskiego
  - zimnych: Kalifornijskiego i Peruwiańskiego
27. Napływ ludności na dane terytorium to:
- emigracja
  - przyrost naturalny
  - eksplozja demograficzna
  - imigracja
28. W skład Stanów Zjednoczonych wchodzi:
- 25 stanów
  - 50 stanów
  - 40 stanów
  - 30 stanów
29. Jeden z największych wodnych szlaków komunikacyjnych w USA łączących Wielkie Jeziora tworzą rzeki:
- Missisipi i Missouri
  - Amazonka i Parana
  - Missisipi i św. Wawrzyńca
  - Św. Wawrzyńca i Jukon
30. Selwa to:
- wiecznie zielony las równikowy
  - suche krzewy i lasy
  - sawanna
  - las iglaste
31. Megalopolis to:
- najstarszy ośrodek high – tech na świecie
  - dzielnice nędzy w Ameryce Południowej
  - skupisko wielomilionowych miast
  - jeden ze stanów USA
32. Który z półwyspów wchodzących obecnie w skład USA należał kiedyś do Rosji.
- Alaska
  - Labrador
  - Kalifornijski
  - Floryda
33. Najsuchsza pustynia leżąca w Ameryce Południowej to:
- La Platy
  - Atacama
  - Dolina Śmierci
  - Patagonia
34. Najwyżej położonym jeziorem świata jest:
- Titicaca
  - Maracaibo
  - Ontario
  - Salto Angel
35. Wskaż zdanie poprawnie charakteryzujące Andy i Kordyliery:
- góry młode, leżące na zachodzie kontynentu na styku płyt tektonicznych strefie aktywności sejsmicznej
  - góry młode leżące na wschodzie kontynentu na styku płyt tektonicznych strefie aktywności sejsmicznej
  - góry stare leżące na zachodzie kontynentu w strefie wolnej od trzęsień ziemi
  - góry stare leżące na zachodzie kontynentu na styku płyt tektonicznych strefie aktywności sejsmicznej
36. Największe miasta giganty Stanów Zjednoczonych to:
- Los Angeles i San Francisco
  - Nowy Jork i Los Angeles
  - Nowy Jork i San Francisco
  - Waszyngton i Nowy Jork
37. Rdzennymi mieszkańcami Stanów Zjednoczonych są:
- Indianie i Eskimosi
  - Europejczycy
  - Afroamerykanie
  - Metysi
38. Pomimo wielkiej zasobności i wydobycia tego surowca – Stany Zjednoczone (ze względu na duże zapotrzebowanie) są jego największym importerem. Mowa o:
- węgla kamiennym
  - złocie
  - rudzie miedzi
  - ropie naftowej

39. Najstarszy i największy ośrodek high-tech na świecie w USA to:

- A. Megalopolis
- B. Long Beach
- C. Dolina Krzemowa
- D. Los Angeles

40. Słynnym rodzinnym świętem obchodzonym w USA w ostatni czwartek listopada jest:

- A. Święto Dziękczynienia
- B. Halloween
- C. Boże Narodzenie
- D. Dzień Niepodległości

41. Potomkami Indian i osób należących do czarnej odmiany człowieka są:

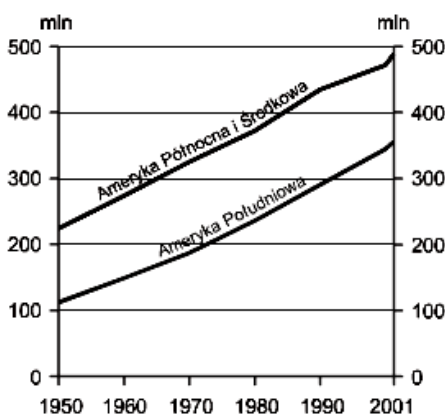
- A. Metysi
- B. Mulaci
- C. Zambosi
- D. Pigmeje

45. Kolonizacja Ameryki rozpoczęła się w XVI w. Jakiej narodowości byli przybysze, którzy zasiedlili obszar Ameryki Południowej oraz Meksyku?

- A. Anglicy i Rosjanie
- B. Francuzi i Hiszpanie
- C. Holendrzy i Portugalczycy
- D. Hiszpanie i Portugalczycy

46. Odczytaj z wykresu i oszacuj ilokrotnie wzrosła liczba ludności w Ameryce Południowej między rokiem 1950 a 2001.

- A. 5- krotnie
- B. 4- krotnie
- C. 3- krotnie
- D. 2-krotnie



47. Odczytaj na diagramie, jaką część powierzchni Stanów Zjednoczonych Ameryki zajmują lasy.

- A. 30%
- B. 90%
- C. 60%
- D. 15%

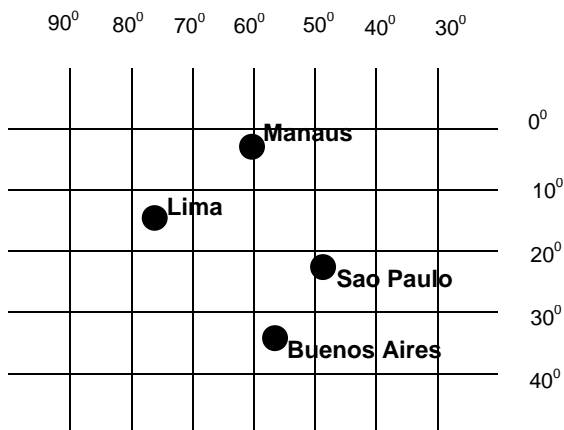


48. Które z wymienionych miast należą do Megalopolis, czyli najsilniej zurbanizowanego obszaru miejskiego USA?

- A. Baltimore, Filadelfia, Nowy Jork, Waszyngton, Boston
- B. San Francisco, Los Angeles, San Diego, Rio de Janeiro
- C. Chicago, Detroit, Cleveland, Nowy Jork, Waszymgton
- D. Houston, Nowy Orlean, Saint Louis, Chicago

49. Na siatce kartograficznej zaznaczono miasta Ameryki Południowej

Lima – 77°W, 12°S  
 Buenos Aires – 58°W, 34°S  
 Manaus – 60°W, 3°S  
 Sao Paulo – 47°W, 24°S .



Na podstawie załączonej siatki kartograficznej zaznacz poprawną odpowiedź:

- oblicz rozciągłość południkowa w stopniach pomiędzy Manaus i Buenos Aires
- w którym z miast najpóźniej słońce zachodzi w  
 A – Manaus                      B – Limie                      C – Sao Paulo                      D – Buenos Aires
- oblicz różnicę czasu słonecznego pomiędzy Sao Paulo a Limą
- Jeśli w Sao Paulo jest godzina 15.00 czasu słonecznego, to w Limie jest .....

50. Wymienione nazwy geograficzne łączą podobne cechy środowiska. Rozpoznaj te cechy spośród podanych niżej i wpisz je w wykropkowane miejsca.

*Cechy środowiska: rzeki, morza, wyspy, jeziora, półwyspy, wyżyny, zatoki*

- Amazonka, Orinoko, Missisipi .....
- Patagońska, Brazylijska, Wielkie Równiny .....
- Karaibskie, Baffina, Sargassowe .....
- Titicaca, Huron, Górne .....
- Floryda, Alaska, Labrador .....
- Hudsona, Meksykańska, Alaska .....
- Ziemia Ognista, Bahamy, Wielkie Antyle .....

51. W zestawieniu terminy geograficzne oznaczono cyfrą, a wyjaśnienie literą. Odpowiedniej literze przyporządkuj cyfrę.

- |   |                   |
|---|-------------------|
| A – rzeka Ameryki Północnej                           | 1 – Orinoko       |
| B – obszary trawiaste w Argentynie                    | 2 – pampa         |
| C – jezioro Ameryki Północnej                         | 3 – św. Wawrzyńca |
| D – znany wodospad między jeziorami Erie i Ontario    | 4 – tundra        |
| E - półwysep Ameryki Północnej                        | 5 – Michigan      |
| F – formacja roślinna, którą tworzą drzewa iglaste    | 6 – Floryda       |
| G – rzeka Ameryki Południowej                         | 7 – tajga         |
| H – formacja roślinna, którą tworzą mchy, porosty     | 8 – Niagara       |
| I – ogromne obszary trawiaste w Stanach Zjednoczonych | 9 - preria        |

A - .....      B - .....      C - .....      D - ....      E - .....      F - .....      G - .....      H - .....      I - .....

52. Z podanych terminów geograficznych utwórz tablicę zależności.

typ klimatu: subpolarny; zwrotnikowy suchy; umiarkowany morski, umiarkowany chłodny; równikowy wilgotny; umiarkowany kontynentalny suchy

formacja roślinna: lasy liściaste, pustynie, tajga, lasy równikowe, step, tundra

występowanie: wschodnie wybrzeże Stanów Zjednoczonych, Płw. Alaska, Wielkie Równiny, Nizina Amazonki, Pustynia Atacama, Kanada

charakterystyczne rośliny: mchy i porosty, kaktusy, wysokie trawy; drzewa iglaste; dęby i buki; liany i epifity

Cecha klimatu	Typ klimatu	Formacja roślinna	Charakterystyczne rośliny	Występowanie
Wysokie temperatury w ciągu całego roku, minimalne opady deszczu				
Niewielkie opady deszczu, zimy bardzo mroźne, trwające ok.8 m-cy				
Ciepłe lata, chłodne zimy, opady całoroczne				
Ciepłe lata, krótkie i mroźne zimy, małe opady deszczu				
Lata ciepłe, długie, mroźne zimy, umiarkowane opady deszczu				
Wysokie temperatury w ciągu całego roku, całoroczne opady deszczu				

53. W podanym poniżej zestawieniu jezior podkreśl 5, które wchodzi w skład do Wielkich Jezior:  
*Wielkie Jezioro Niewolnicze, Huron, Ontario, Titicaca, Górne, Erie, Wielkie Jezioro Niedźwiedzie, Michigan, Maracaibo*
54. Według danych brazylijskich długość Amazonki wynosi około 7000 km. Na mapie długość tej rzeki wynosi 10 cm. Oblicz skalę, w której wykonano tę mapę:
55. Wyruszasz ze schroniska położonego na wysokości 2000 m.n.p.m. Termometr wskazał +50C. Przed Tobą wejście na szczyt w Kordylierach o wysokości 4900 m.n.p.m. Oblicz temperaturę, której możesz spodziewać się na szczycie to: (pamiętaj, że temperatura zmienia się wraz z wysokością o 0,6 0C na każde 100 metrów)
56. Najwyższy szczyt Ameryki Północnej ma wysokość 6194 m.n.p.m. a najniższa depresja w Ameryce w Dolinie Śmierci znajduje się na głębokości 86 m.p.p.m. Deniwelacje (różnice) terenu w obrębie tego kontynentu wynoszą:

- A. 6280 m.n.p.m.      B. 6280 m      C. 6108 m.n.p.m.      D. 6108 m

57. Zaznacz krzyżykiem kraje należących do Ameryki Łacińskiej

Kolumbia  Meksyk  Kanada  Chile  Wenezuela  USA  Urugwaj

58. Zaznacz dwa czynniki, które zadecydowały o masowym napływie Murzynów z Afryki do Ameryki.

- a) tania siła robocza
- b) przymusowy wywóz do pracy na plantacjach
- c) mała liczba ludności
- d) wysokie zarobki

59. Uzupełnij tabelę obliczając brakujące wartości przyrostu naturalnego, zgonów lub urodzeń

Kraj	Urodzenia w ‰	Zgony w ‰	Przyrost naturalny w ‰
Brazylia	20,3		13,1
Kanada		6,2	4,9


60. Uszereguj chronologicznie (od najwcześniejszego na najpóźniejszego) wydarzenia związane z napływem ludności na kontynent Ameryki

A - napływ ludności żółtej pochodzenia azjatyckiego

B - odkrycie Ameryki przez Krzysztofa Kolumba

C - napływ ludności pochodzenia europejskiego i kolonizacja Ameryki

D - sprowadzenie Murzynów do pracy niewolniczej



61. Wśród wymienionych poniżej upraw podkreśl 4, które uprawia się w Ameryce Południowej.

*bawełna, jęczmień, kakao, trzcina cukrowa, kawa, ziemniaki*

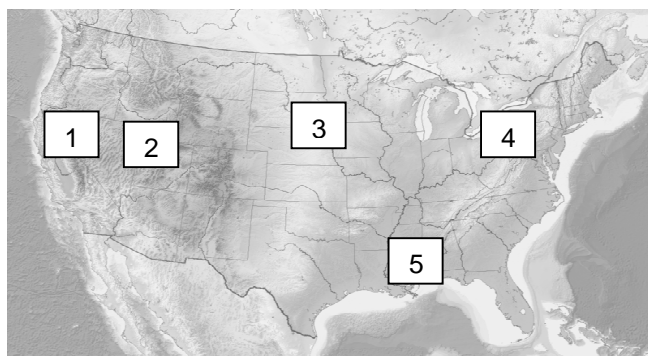
Rośliny te uprawiane są na

farmach  gospodarstwach rolnych przeznaczonych pod uprawę ręczną jednej rośliny  
 plantacjach  czyli  wielkoobszarowych, zmechanizowanych gospodarstwach rolnych,

62. Na mapie Stanów Zjednoczonych zaznaczono cyframi od 1 do 5 - pięć wielkich regionów gospodarczych.

Przyporządkuj opisy (litery od A do E) do odpowiednich regionów

region ten można określić jako światowe centrum produkcji urządzeń elektronicznych, to w tym miejscu znajduje się słynna Dolina Krzemowa – najstarszy i największy ośrodek high – tech	D
region ten charakteryzuje się świetnie rozwiniętą siecią dróg, choć najważniejszą rolę odgrywa tu śródlądowa droga wodna rzeką św. Wawrzyńca	E
z uwagi na bardzo dobre gleby i płaski teren, region ten należy do typowo rolniczych z uprawą kukurydzy, soi i pszenicy	B
pokłady ropy naftowej i gazu ziemnego stały się podstawą rozwoju w tym regionie przemysłu petrochemicznego, a ciepły podzwrotnikowy klimat służy uprawie cytrusów, bawełny, trzciny cukrowej	C
górzysto - wyżynne ukształtowanie terenu dało możliwość wykorzystania tego regionu do hodowli bydła i owiec	A



1 - ..... 2 - ..... 3 - ..... 4 - ..... 5 - .....

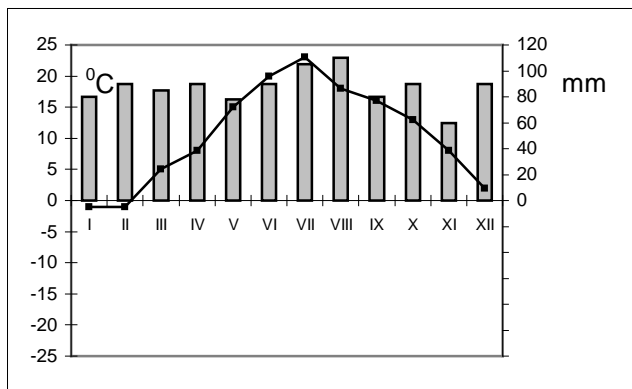
63. Zaznacz informacje prawdziwe dotyczące Ameryki Południowej lub Północnej

	Ameryka Płd.	Ameryka Płn
a) w rolnictwie dominują wielkie farmy	<input type="checkbox"/>	<input type="checkbox"/>
b) niekorzystne warunki naturalne	<input type="checkbox"/>	<input type="checkbox"/>
c) większość gospodarstw wytwarza płody rolne na własne potrzeby	<input type="checkbox"/>	<input type="checkbox"/>
d) rolnictwo jest podstawą utrzymania ponad 50% ludności kontynentu	<input type="checkbox"/>	<input type="checkbox"/>
e) nowoczesny przemysł wysokiej technologii	<input type="checkbox"/>	<input type="checkbox"/>
f) w rolnictwie dominują wielkie plantacje	<input type="checkbox"/>	<input type="checkbox"/>
g) nowoczesna gospodarka, z dużym udziałem usług	<input type="checkbox"/>	<input type="checkbox"/>
h) przewaga krajów słabo i średnio rozwiniętych	<input type="checkbox"/>	<input type="checkbox"/>

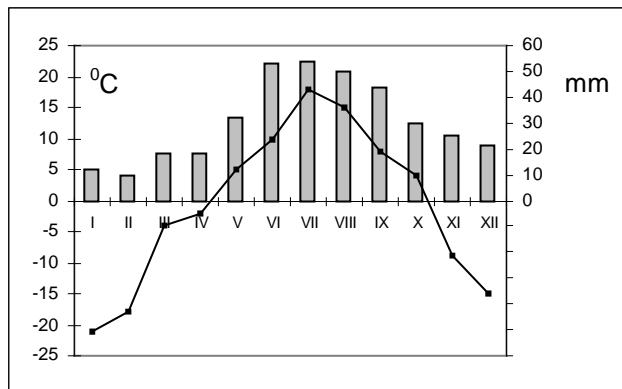
64. Wskaż cechy farm:

- a) własność prywatna
- b) gospodarstwa o bardzo małej powierzchni
- c) własność państwa
- d) gospodarstwa wielkoobszarowe
- e) specjalizacja produkcji
- f) uprawa jednego gatunku roślin na dużą skalę
- g) uprawa ręczna

65. Na podstawie diagramu klimatycznego oceń poprawność poniższych zdań:



Miasto A



Miasto B

- |  | P                        | F                        |
|--|--------------------------|--------------------------|
| a) Amplituda roczna temperatury powietrza w mieście B jest większa niż w mieście A | <input type="checkbox"/> | <input type="checkbox"/> |
| b) Najwięcej opadów w mieście A spadło w lipcu                                     | <input type="checkbox"/> | <input type="checkbox"/> |
| c) Klimat okołobiegunowy charakteryzuje przebieg temperatur i opadów z diagramu B  | <input type="checkbox"/> | <input type="checkbox"/> |
| d) Najzimniejszym miesiącem w mieście A był listopad                               | <input type="checkbox"/> | <input type="checkbox"/> |

