

1. Tabela przedstawia strukturę ludności Polski według wieku w 1998 roku (w odsetkach)

Ludność w wieku	Odsetek ludności według wieku ogółem	Odsetek ludności według wieku	
		W miastach	Na wsi
Ogółem:	100,0	100,0	100,0
W tym:			
0-6 lat	8,2	7,2	9,9
7-14 lat	12,5	11,8	13,6
15-24 lat	16,6	16,9	16,0
25-34 lat	13,2	12,8	13,6
35-44 lat	15,8	16,6	14,5
45-54 lat	13,1	14,5	10,9
55-64 lat	8,9	9,2	8,4
65 lat i więcej	11,7	11,0	13,1

Porównaj odsetek ludności w poszczególnych grupach wiekowych miast i wsi. Wskaż różnice występujące w strukturze wiekowej ludności miast i wsi.

2. Wymień 10 najbardziej zaludnionych miast Polski

3. Tabela przedstawia liczbę ludności Polski w 2009 roku

Liczba ludności w tysiącach	Urodzenia w tysiącach	Zgony w tysiącach	Imigracja w tysiącach	Emigracja w tysiącach
38 100	419	385	17,4	18,6

a) oblicz wartość przyrostu naturalnego

b) oblicz saldo migracji

c) oblicz współczynnik urodzeń

d) oblicz współczynnik zgonów

e) oblicz przyrost rzeczywisty

f) oblicz współczynnik przyrostu naturalnego

4. W roku 2008 w województwie dolnośląskim mieszkało 2 876 059 osób. Współczynnik przyrostu naturalnego wyniósł w tym roku -0,4%. Oblicz, o ile zwiększyła się lub zmniejszyła liczba ludności województwa w ciągu roku.

5. Posługując się konkretnymi wartościami udowodnij, że Polska jest krajem sfeminizowanym

6. Wskaż różnice jaka istnieje pomiędzy aglomeracją i konurbacją. Podaj przykład aglomeracji i konurbacji.

7. Piramida wieku przedstawia ludność według płci i wieku w 2007 roku w Gdyni

Oceń prawdziwość każdego zdania.
Zaznacz P, jeśli zdanie jest prawdziwe
lub F, jeśli jest fałszywe

I. W Gdyni rodzi się więcej dziewczynek niż chłopców P / F

II. Społeczeństwo Gdyni należy do młodych P / F

III. W wieku przedprodukcyjnym przeważają chłopcy P / F

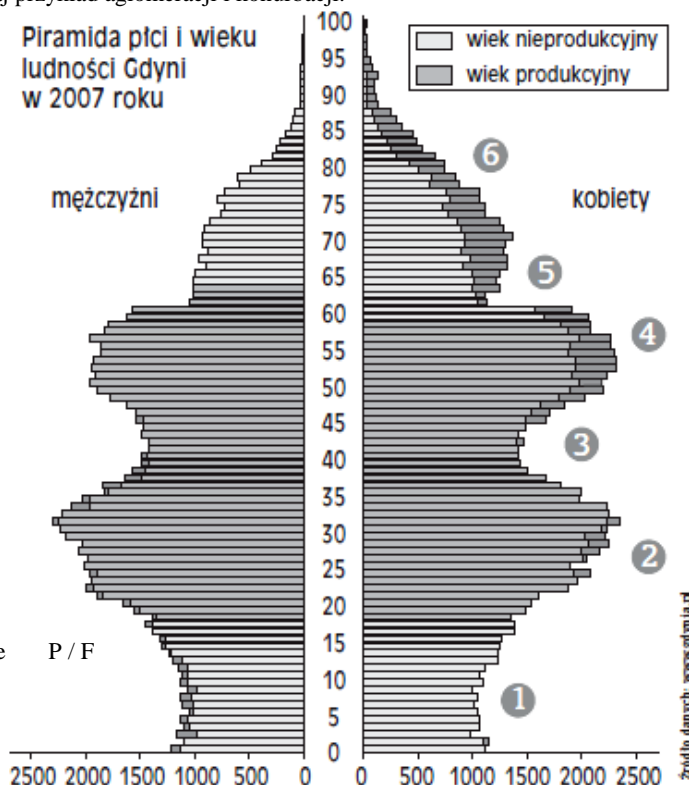
IV. W wieku poprodukcyjnym liczba mężczyzn jest większa od liczby kobiet P / F

V. Gdynia jest miastem sfeminizowanym P / F

VI. Osoby, które w 2007 roku miały 40 lat, urodziły się w okresie wyżu demograficznego P / F

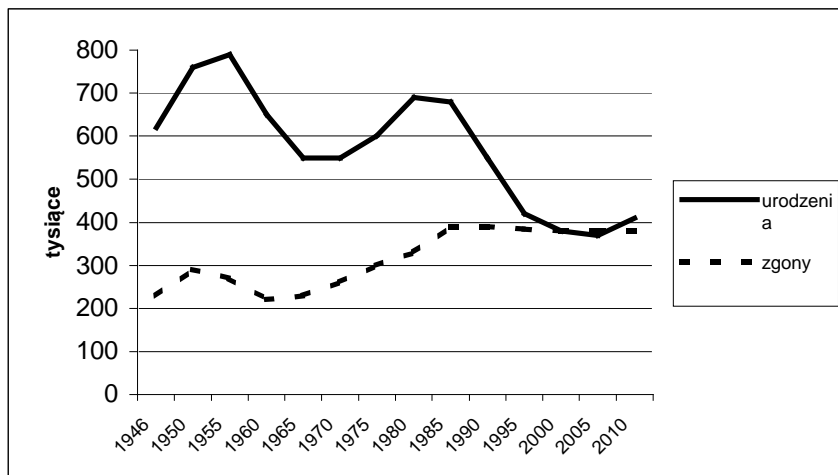
VII. Kobiety w Gdyni żyją krócej niż mężczyźni P / F

VIII. Liczba urodzeń w Gdyni w ostatnich latach cały z roku na rok maleje P / F



8. Na podstawie wykresu oceń poprawność każdego zdania:
Zaznacz P, jeśli zdanie jest prawdziwe, lub F jeśli jest fałszywe

- a) W 1985 roku urodziło się więcej dzieci niż w 1955 P / F
- b) W latach 1946 – 1950 liczba urodzeń i zgonów malała P / F
- c) W 1950 roku liczba zgonów była mniejsza od liczby urodzeń P / F
- d) Najwyższy przyrost naturalny był w roku 1955 P / F



9. Na mapie Polski zaznacz obszary, które zamieszkują:
- b) prawosławni
 - c) Kaszubi, Kurpie
 - d) Niemcy



10.

<p>1. W którym z wymienionych województw występują typy krajobrazu pobrzeży i krajobrazu pojeziernego?</p> <ul style="list-style-type: none"> A. w województwie pomorskim B. w województwie lubelskim C. w województwie dolnośląskim D. w województwie świętokrzyskim 	<p>5. Współczynnik przyrostu naturalnego w Polsce wynosi obecnie ok.:</p> <ul style="list-style-type: none"> A. -4 ‰ B. -1 ‰ C. 1 ‰ D. 3 ‰
<p>2. Liczba ludności Polski wynosi:</p> <ul style="list-style-type: none"> A. 38 mln B. 33 mln C. 60 mln D. 42 mln 	<p>6. Na którym z obszarów wytworzyła się największa w Polsce konurbacja</p> <ul style="list-style-type: none"> A. na obszarze wokół Warszawy B. na obszarze wokół Łodzi C. na obszarze Górnośląskiego Okręgu Przemysłowego D. na obszarze wokół Trójmiasta
<p>3. Wskaż zestaw, w którym umieszczono nazwy czterech największych miast leżących w Górnośląskim Okręgu Przemysłowym</p> <ul style="list-style-type: none"> A. Wrocław, Wałbrzych, Legnica, Dąbrowa Górnicza B. Katowice, Sosnowiec, Gliwice, Tychy C. Bydgoszcz, Toruń, Włocławek, Płock D. Kraków, Tarnów, Rzeszów, Katowice 	<p>7. Najliczniejszą mniejszością narodową w Polsce są:</p> <ul style="list-style-type: none"> A. Białorusini B. Niemcy C. Ukraińcy D. Romowie
<p>4. Od 1 I 1999 r. obowiązuje nowy podział administracyjny. Podział ten jest:</p> <ul style="list-style-type: none"> A. dwustopniowy B. pięciostopniowy C. czterostopniowy D. trzystopniowy 	

<p>8. Wskaż zestaw, w którym umieszczono jednostki podziału administracyjnego Polski od jednostki najwyższej do najniższej.</p> <p>A. powiat, gmina, województwo B. gmina, powiat, województwo C. województwo, gmina, powiat D. województwo powiat, gmina</p>	
<p>9. Polskie społeczeństwo określa się mianem:</p> <p>A. młodego B. starzejącego C. dorosłego D. dojrzałego</p>	<p>18. Najwyższy współczynnik feminizacji ma:</p> <p>A. województwo mazowieckie B. województwo podkarpackie C. województwo łódzkie D. województwo podlaskie</p>
<p>10. Najwyższy współczynnik urbanizacji w Polsce ma:</p> <p>A. województwo pomorskie B. województwo dolnośląskie C. województwo lubelskie D. województwo śląskie</p>	<p>19. Który z wymienionych wskaźników jest najczęściej stosowaną miarą procesów urbanizacji?</p> <p>A. wzrost liczby osiedli wiejskich B. zmiany liczby pracujących na 1000 mieszkańców C. wzrost dochodu narodowego na 1 mieszkańca D. wzrost udziału ludności miejskiej w ogólnej liczbie ludności</p>
<p>11. Wskaż poprawne zestawienie struktury zatrudnienia ludności Polski.</p> <p>A. rolnictwo: 15%, przemysł: 28%, usługi 57% B. rolnictwo: 45%, przemysł 40%, usługi 15% C. rolnictwo: 57%, przemysł 20%, usługi 23% D. rolnictwo: 2%, przemysł 18%, usługi 80%</p>	<p>20. Określ, które zjawisko w ruchu naturalnym spowoduje ujemny przyrost naturalny w danym kraju</p> <p>A. gdy saldo migracji zagranicznych jest większe niż liczba urodzeń żywych B. gdy liczba urodzeń jest wyższa niż liczba zgonów C. gdy przyrost rzeczywisty ludności jest większy niż saldo migracji zagranicznych D. gdy liczba zgonów jest wyższa niż liczba urodzeń</p>
<p>12. Średnia wieku dla kobiet wynosi:</p> <p>A. 80 lat B. 86 lat C. 65 lat D. 75 lat</p>	<p>21. Średnia wieku dla mężczyzn w Polsce to:</p> <p>A. 85 lat B. 71 lat C. 66 lat D. 77 lat</p>
<p>13. Gdy współczynnik przyrostu naturalnego jest wysoki mówimy o:</p> <p>A. niżu demograficznym B. dużej gęstości zaludnienia C. wyżu demograficznym D. wysokim współczynnikiem urbanizacji</p>	<p>22. Najniższy współczynnik przyrostu naturalnego w Polsce ma województwo:</p> <p>A. pomorskie B. lubelskie C. mazowieckie D. łódzkie</p>
<p>14. Mniejszości narodowe w Polsce stanowią około:</p> <p>A. 10% B. 98% C. 1,5% D. 25%</p>	<p>23. Polska jest społeczeństwem sfeminizowanym, ponieważ:</p> <p>A. przeważa ludność mieszkająca w miastach B. przeważają kobiety C. jest dodatni przyrost naturalny D. jest krajem jednolitym narodowościowo</p>
<p>15. Województwem o najwyższym przyroście naturalnym w Polsce jest:</p> <p>E. małopolskie F. łódzkie G. podkarpackie H. pomorskie</p>	<p>24. Średnia gęstość zaludnienia w Polsce wynosi:</p> <p>A. 350 os / km² B. 60 os / km² C. 122 os . km² D. 202 os / km²</p>
<p>16. Stopa bezrobocia w Polsce wynosi:</p> <p>A. 12% B. 5% C. 15% D. 20%</p>	<p>25. Województwem o największej gęstości zaludnienia jest:</p> <p>A. warmińsko – mazurskie B. podlaskie C. śląskie D. lubelskie</p>
<p>17. Napływ osób na dane terytorium to:</p> <p>A. emigracja B. imigracja C. saldo migracji D. urbanizacja</p>	<p>26. Najwięcej osób polskiego pochodzenia żyje obecnie:</p> <p>A. w Wielkiej Brytanii B. w Stanach Zjednoczonych C. w Hiszpanii D. w Australii</p>

<p>18. Niemcy zamieszkują w Polsce województwa:</p> <p>A. opolskie, śląskie, warmińsko – mazurskie, pomorskie</p> <p>B. podlaskie, śląskie, pomorskie, lubelskie</p> <p>C. mazowieckie, podlaskie, pomorskie, śląskie</p> <p>D. lubuskie, podlaskie, lubelskie, mazowieckie</p>	<p>21. Wkaż zdanie prawdziwe</p> <p>A. Saldo migracji zewnętrznych w Polsce jest dodatnie</p> <p>B. Saldo migracji zewnętrznych w Polsce jest ujemne</p> <p>C. Saldo migracji dla miast jest dodatnie</p> <p>D. Saldo migracji dla wsi jest ujemne</p>
<p>19. Wyznawcy religii prawosławnej zamieszkują w Polsce :</p> <p>A. Nizinę Śląską</p> <p>B. Wyżynę Śląską</p> <p>C. Nizinę Podlaską</p> <p>D. Pojezierze Pomorskie</p>	<p>22. W przypadku społeczeńst młodych piramida wieku i płci ma kształt:</p> <p>A. trójkąta o szerokiej podstawie</p> <p>B. trójkąta o wąskiej podstawie</p> <p>C. kolumny o szerokiej podstawie</p> <p>D. kolumny o wąskiej podstawie</p>
<p>20. Wskaźnik urbanizacji w Polsce wynosi:</p> <p>A. 80%</p> <p>B. 68%</p> <p>C. 61%</p> <p>D. 74%</p>	<p>23. Województwem o największej gęstości zaludnienia jest:</p> <p>A. podlaskie</p> <p>B. mazowieckie</p> <p>C. pomorskie</p> <p>D. śląskie</p>

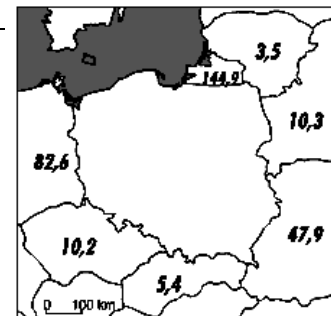
24. Wskaż zestaw, w którym umieszczono wszystkie nazwy państw graniczących z Polską, gdzie liczba ludności jest wyższa niż w naszym kraju.

A. Federacja Rosyjska, Ukraina, Niemcy

B. Republika Czeska, Słowacja, Litwa

C. Białoruś, Ukraina, Słowacja

D. Niemcy, Litwa, Republika Czeska



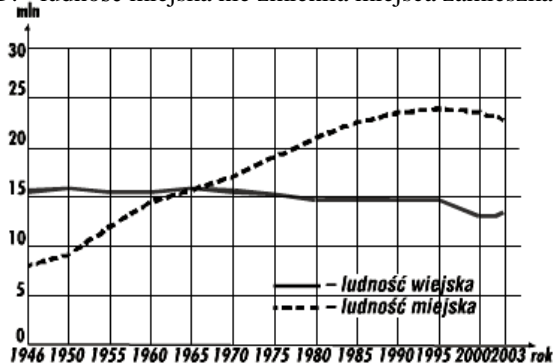
25. Na podstawie wykresu zmian liczby ludności wiejskiej i miejskiej (ryc.) wskaż tendencję w ruchu migracyjnym ludności w Polsce w latach 1965-2003.

A. ludność wiejska przenosiła się do miast

B. ludność miejska przenosiła się na wieś

C. ludność wiejska nie zmieniła miejsca zamieszkania

D. ludność miejska nie zmieniła miejsca zamieszkania



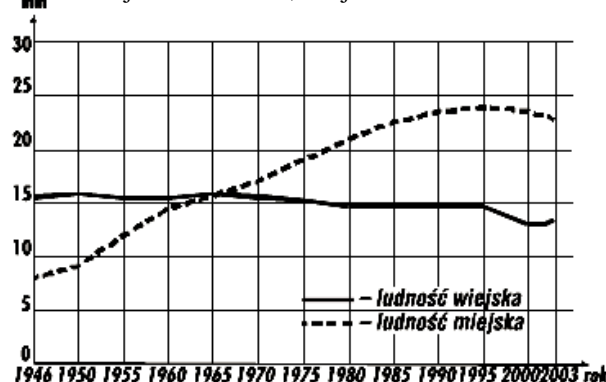
26. Na podstawie wykresu oszacuj liczbę ludności wiejskiej i miejskiej w 2003

A. wiejska: ok.25 mln, miejska: ok. 13,5mln

B. wiejska: ok.23,5 mln, miejska: ok.14,7mln

C. wiejska: ok.14,7 mln, miejska: ok.23,5 mln

D. wiejska: ok.13 mln, miejska: ok.23 mln



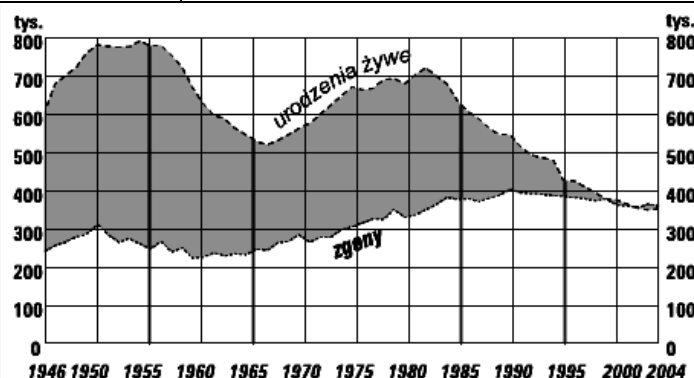
27. Odczytaj na wykresie (ryc.), w którym z czterech zaznaczonych lat przyrost naturalny w Polsce był najniższy

A. 1955

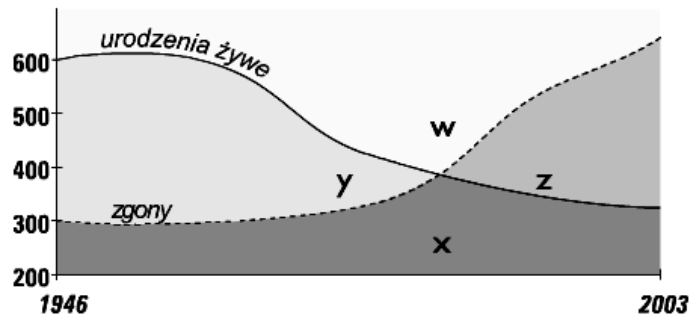
B. 1965

C. 1985

D. 1995

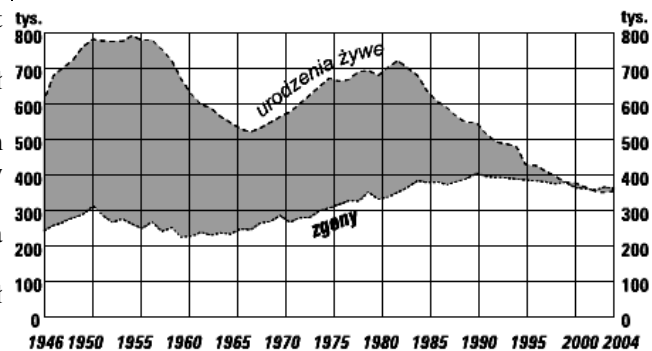


28. Przykładowy wykres (ryc.) przedstawia ruch naturalny ludności w danym państwie. Odczytaj, którymi literami na wykresie oznaczono okres, gdy przyrost naturalny był dodatni a którymi - ujemny



- A. dodatni – X, ujemny - W
- B. dodatni – Y, ujemny Z
- C. dodatni – Z, ujemny Y
- D. dodatni – W, ujemny X

29. Wykorzystaj wykres przedstawiający zmiany przyrostu naturalnego w Polsce (ryc.). Wskaż, który wniosek dotyczący przyrostu naturalnego od roku 1983 do 2003 jest prawidłowy.



- A. przyrost naturalny zmniejszył się, gdyż nastąpił spadek liczby urodzeń żywych.
- B. przyrost naturalny utrzymał się na tym samym poziomie, gdyż liczba urodzeń żywych i zgonów była stała.
- C. przyrost naturalny zmniejszył się, gdyż wzrosła liczba zgonów i wzrosła liczba urodzeń żywych.
- D. przyrost naturalny zmniejszył się, gdyż nastąpił wzrost liczby zgonów

30. Przykładem konurbacji w Polsce jest konurbacja:

- A. warszawska
- B. trójmiejska
- C. krakowska
- D. wrocławska